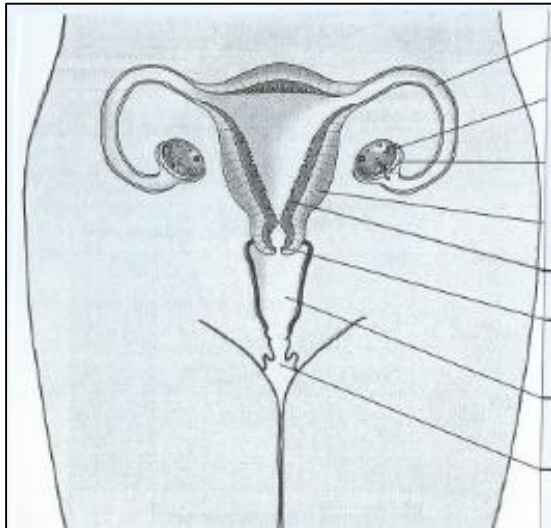


## Schéma bilan sur les appareils génitaux

Partie A :

**Doc 1** : L'appareil reproducteur de la femme (vue de face)



**Trompe**  
**Ovaire**

**Pavillon**  
**Utérus**  
**Muqueuse de l'utérus**  
**Col de l'utérus**  
**Vagin**

**Vulve**

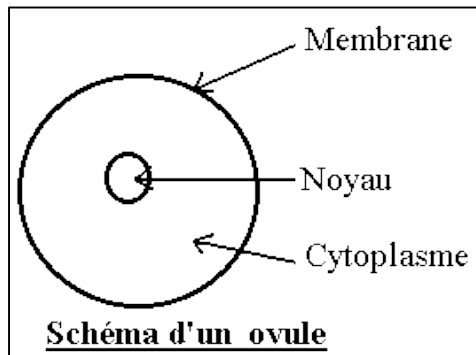
Partie B :

Fonction :  
**Libère des ovules**

Fonction :  
**Développement du fœtus**

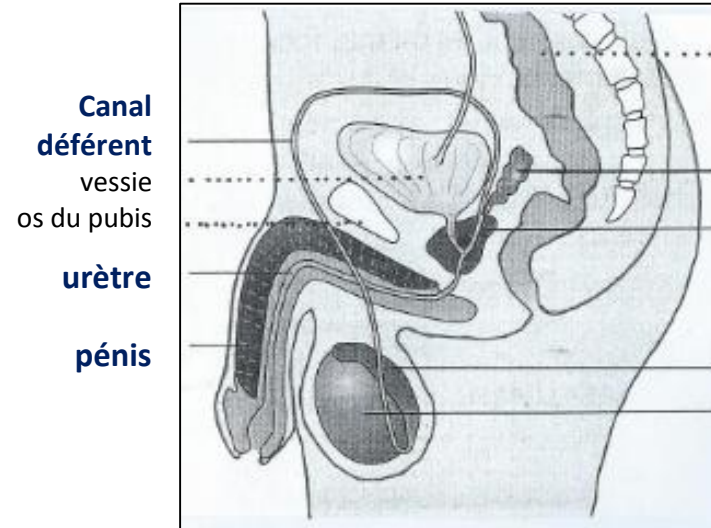
+ Vue de profil : voir p134.

Partie C : **La cellule reproductrice féminine : l'ovule ou ovocyte (x150)**



Partie A :

**Doc 2** : L'appareil reproducteur de l'homme (vue de profil)



**Canal déférent**  
vessie  
os du pubis  
**urètre**  
**pénis**

gros intestin

**vésicule séminale**  
**prostate**

**épididyme**

**testicule**

Partie B :

Fonction :  
**Produisent les liquides nourriciers**

Fonction :  
**Produit les spermatozoïdes**

- ⇒ Parcours des spermatozoïdes
- ⇒ Parcours des liquides nourriciers

+ Vue de face : voir p132.

Partie C : **La cellule reproductrice masculine : le spermatozoïde (x1500)**

